

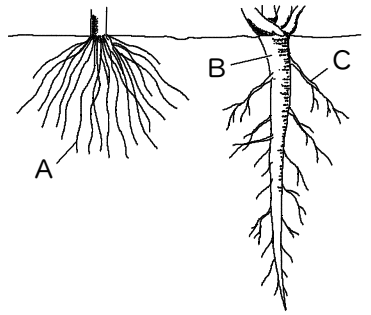
確認テスト

20

名前

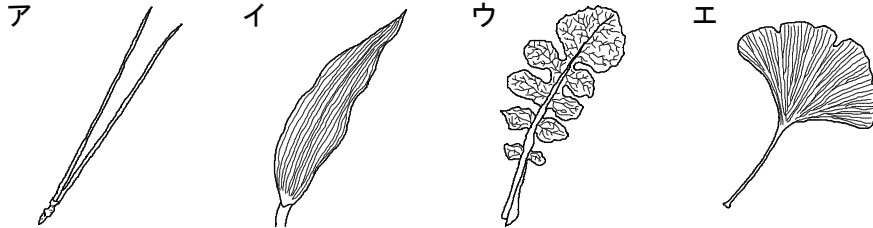
得点

① 右図は、2種類の植物の根を表したものである。これについて、次の問いに答えなさい。



(1) A~Cの根の名称をそれぞれ答えなさい。

(2) Aのような根をもつ植物の葉のスケッチを次のア~エから選び、記号で答えなさい。

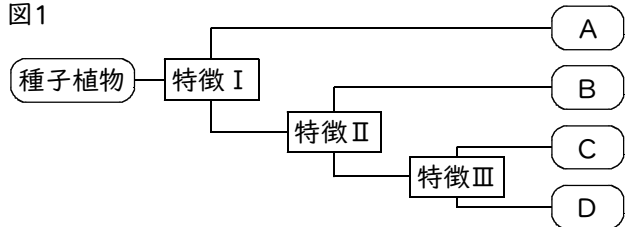


(3) Aのような根をもつ植物を次のア~エからすべて選び、記号で答えなさい。

ア. トウモロコシ イ. アサガオ ウ. イネ エ. アブラナ

(1)	A		B		C	
		⑨		⑨		⑨
(2)		⑧	(3)			⑨

② 図1のような特徴Ⅰ~特徴Ⅲをもとに植物のなかま分け



をした。このとき、アブラナはDのなかまに入った。これについて、次の問いに答えなさい。

(1) 特徴Ⅰ、特徴Ⅱにあてはまるものを次のア~ウからそれぞれ選び、記号で答えなさい。

ア. 子葉が1枚か、2枚か。 イ. 花弁がくっついているか、離れているか。
ウ. 胚珠が子房に包まれているか、子房がなくむき出しか。

図2



(2) 次の①~④の植物は、A~Dのどのなかまに入るか。それぞれ記号で答えなさい。

① サクラ ② イチョウ ③ マツ ④ タンポポ

(3) 図2は、ツククサをスケッチしたものである。この植物は、A~Dのどのなかまに入るか。記号で答えなさい。

(1)	特徴Ⅰ		特徴Ⅱ	
		⑧		⑧
(2)	①		②	
		⑧		⑧
			③	
				⑧
			④	
				⑧
			(3)	
				⑧

確認テスト

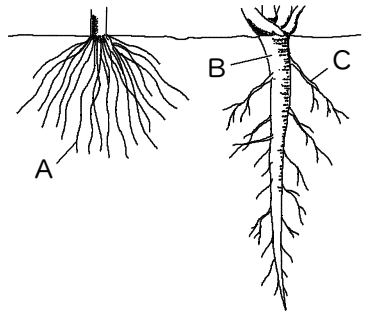
20

名前

解答

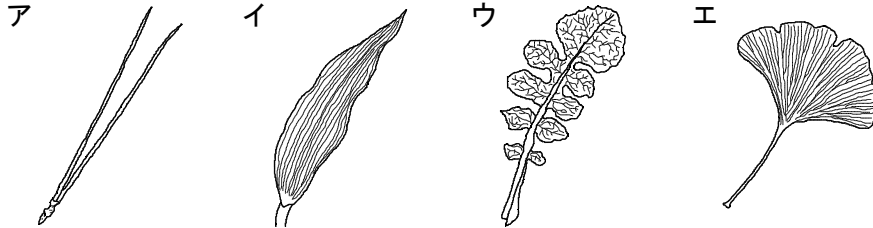
得点

① 右図は、2種類の植物の根を表したものである。これについて、次の問いに答えなさい。



(1) A~Cの根の名称をそれぞれ答えなさい。

(2) Aのような根をもつ植物の葉のスケッチを次のア~エから選び、記号で答えなさい。

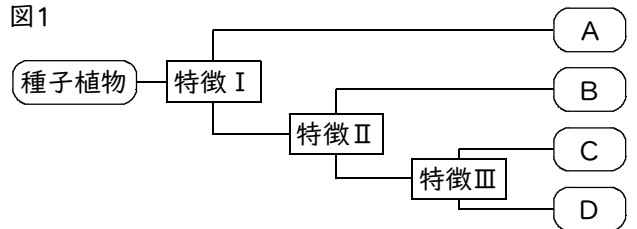


(3) Aのような根をもつ植物を次のア~エからすべて選び、記号で答えなさい。

ア. トウモロコシ イ. アサガオ ウ. イネ エ. アブラナ

(1)	A	ひげ根	B	主根	C	側根
(2)	イ	(3)	ア、ウ			

② 図1のような特徴Ⅰ~特徴Ⅲをもとに植物のなかま分け



をした。このとき、アブラナはDのなかまに入った。これについて、次の問いに答えなさい。

(1) 特徴Ⅰ、特徴Ⅱにあてはまるものを次のア~ウからそれぞれ選び、記号で答えなさい。

ア. 子葉が1枚か、2枚か。 イ. 花弁がくっついているか、離れているか。
ウ. 胚珠が子房に包まれているか、子房がなくむき出しか。

図2



(2) 次の①~④の植物は、A~Dのどのなかまに入るか。それぞれ記号で答えなさい。

① サクラ ② イチョウ ③ マツ ④ タンポポ

(3) 図2は、ツククサをスケッチしたものである。この植物は、A~Dのどのなかまに入るか。記号で答えなさい。

(1)	特徴Ⅰ	ウ	特徴Ⅱ	ア						
(2)	①	D	②	A	③	A	④	C	(3)	B