

確認テスト

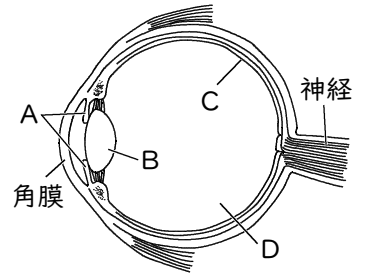
63

名前

解答

得点

1 右図は、ヒトの目のつくりを示したものである。これについて、次の問いに答えなさい。



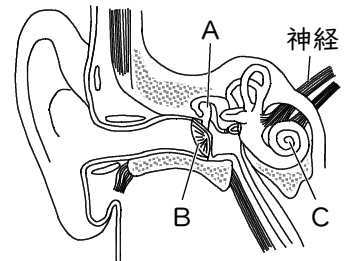
(1) A~Cの名称をそれぞれ答えなさい。

(2) 次の①、②のはたらきをするつくりを、それぞれA~Dから選び、記号で答えなさい。

- ① 厚さを変えて、像を結ばせる。 ② 入ってくる光の量を調節する。

(1)	A		B		C	
(2)	①		②			

2 右図は、ヒトの耳のつくりを示したものである。これについて、次の問いに答えなさい。



(1) A~Cの名称をそれぞれ答えなさい。

(2) 次の①、②のはたらきをするつくりを、それぞれA~Cから選び、記号で答えなさい。

- ① 音の刺激によって振動する。 ② 振動を拡大する。

(1)	A		B		C	
(2)	①		②			

確認テスト

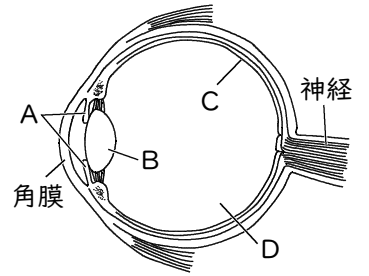
63

名前

解答

得点

① 右図は、ヒトの目のつくりを示したものである。これについて、次の問いに答えなさい。



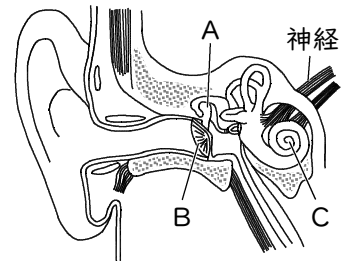
(1) A~Cの名称をそれぞれ答えなさい。

(2) 次の①、②のはたらきをするつくりを、それぞれA~Dから選び、記号で答えなさい。

- ① 厚さを変えて、像を結ばせる。 ② 入ってくる光の量を調節する。

(1)	A	こうさい	B	レンズ	C	網膜
(2)	①	B	②	A		

② 右図は、ヒトの耳のつくりを示したものである。これについて、次の問いに答えなさい。



(1) A~Cの名称をそれぞれ答えなさい。

(2) 次の①、②のはたらきをするつくりを、それぞれA~Cから選び、記号で答えなさい。

- ① 音の刺激によって振動する。 ② 振動を拡大する。

(1)	A	耳小骨	B	鼓膜	C	うずまき管
(2)	①	B	②	A		