

# 確認テスト

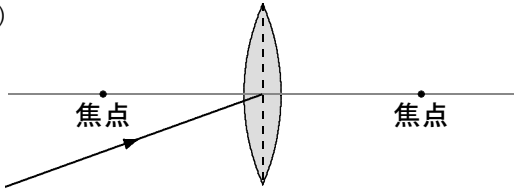
3

名前

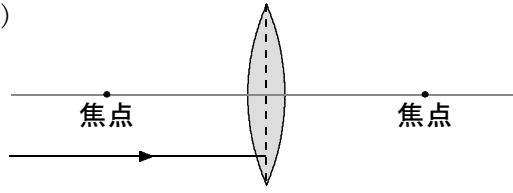
得点

① 次の図で、矢印で示した光は、この後どのように進むか。作図して答えなさい。

(1)



(2)



(1)

図中に記入

⑩

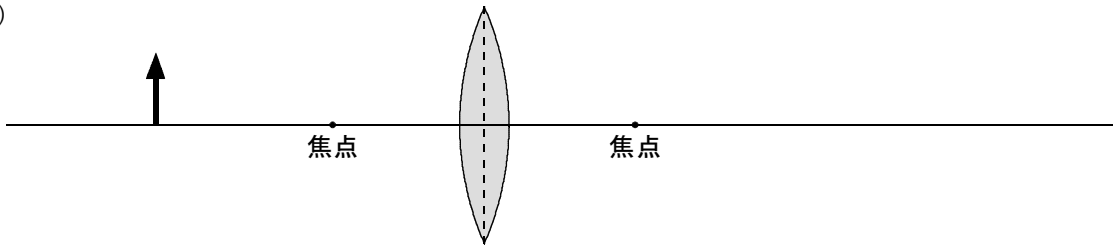
(2)

図中に記入

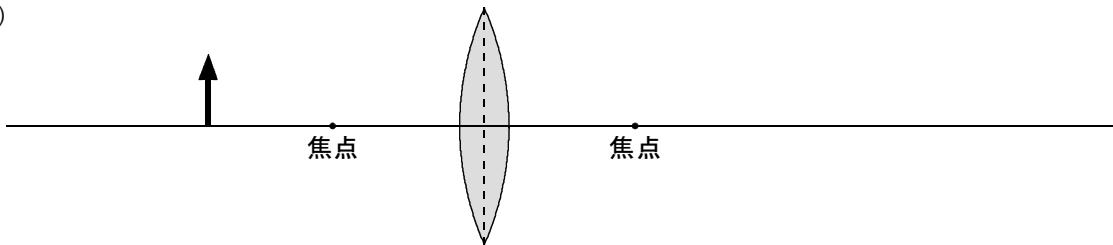
⑩

② 次の図で、物体(↑)の像ができる位置と大きさを、作図によってそれぞれ答えなさい。

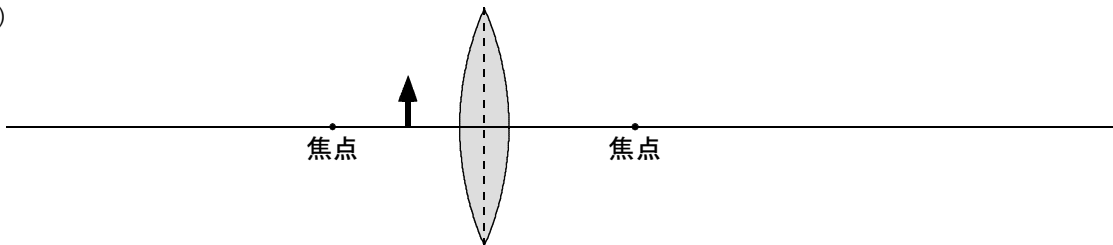
(1)



(2)



(3)



(1)

図中に記入

⑩

(2)

図中に記入

⑩

(3)

図中に記入

⑩

# 確認テスト

3

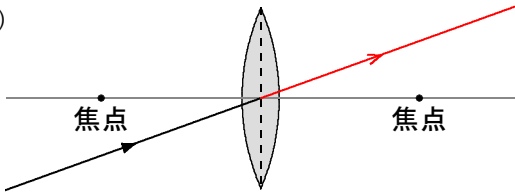
名前

解答

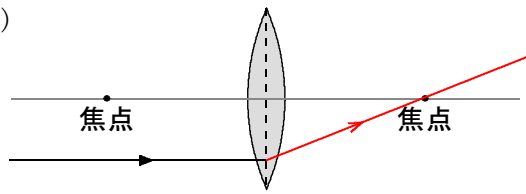
得点

① 次の図で、矢印で示した光は、この後どのように進むか。作図して答えなさい。

(1)



(2)



(1)

図中に記入

⑩

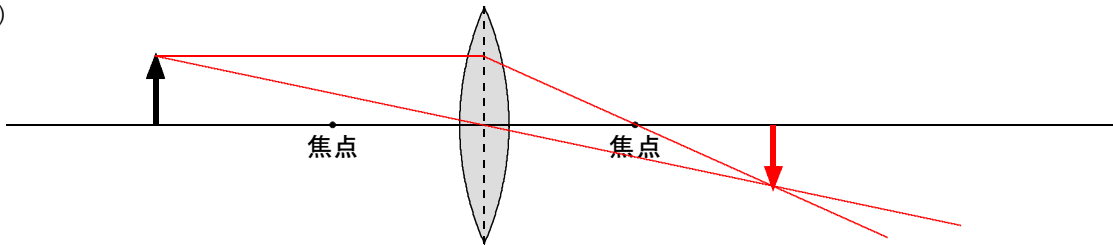
(2)

図中に記入

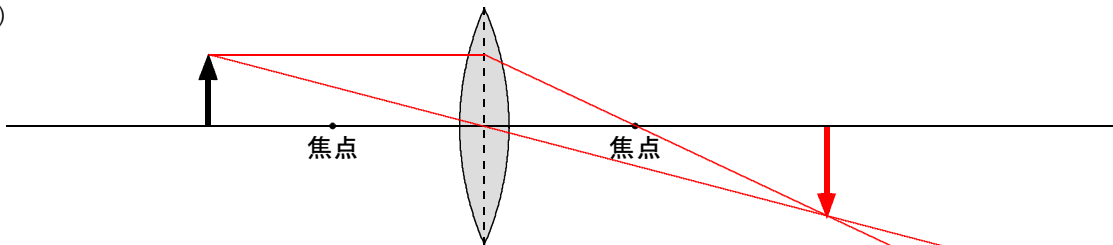
⑩

② 次の図で、物体(↑)の像ができる位置と大きさを、作図によってそれぞれ答えなさい。

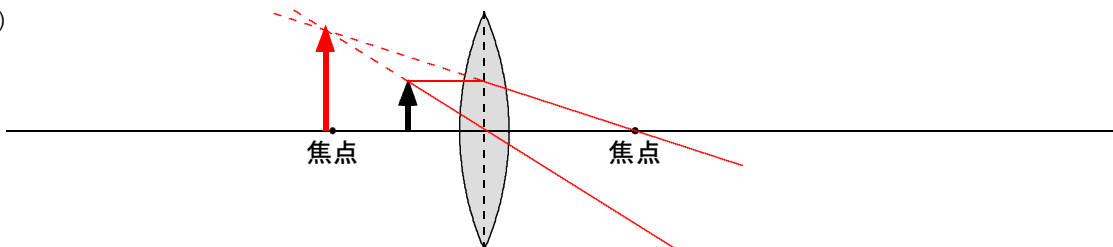
(1)



(2)



(3)



(1)

図中に記入

⑩

(2)

図中に記入

⑩

(3)

図中に記入

⑩