

確認テスト

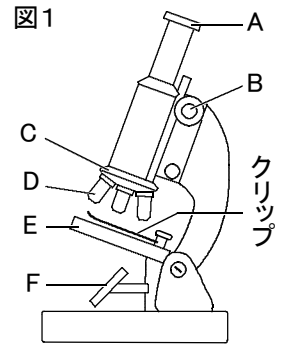
19

名前 **解答**

得点

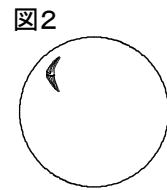
① 図1の顕微鏡の使い方について、次の問いに答えなさい。

- (1) A～Fの名前をそれぞれ答えなさい。
- (2) 次のア～オを、顕微鏡で観察するときの手順に並べかえなさい。
 ア. Aのレンズを取り付ける。 イ. Dのレンズを取り付ける。
 ウ. AのレンズをのぞきながらBを回して、ピントを合わせる。
 エ. Aのレンズをのぞきながら、視野が明るくなるようにFを動かす。
 オ. プレパラートをEに置き、クリップで固定する。

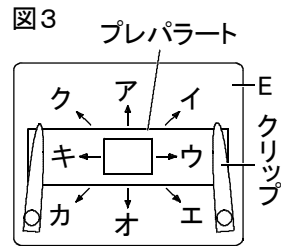


(3) (2)のウでは、Dのレンズをどのようにしてピントを合わせるか。次のア、イから選び、記号で答えなさい。

- ア. プレパラートに近づけながら。 イ. プレパラートから遠ざけながら。



(4) 図2は、ある生物を顕微鏡で観察したときの視野のようすである。この生物を視野の中央にもってくるには、プレパラートをどの向きに動かせばよいか。図3のア～クから選び、記号で答えなさい。



(5) 最初に顕微鏡の倍率は、低倍率と高倍率のどちらにしておきますか。

(1)	A	接眼レンズ	⑧	B	調節ねじ	⑧	C	レボルバー	⑧	
	D	対物レンズ	⑧	E	ステージ	⑧	F	反射鏡	⑧	
(2)	ア → イ → エ → オ → ウ			⑨	(3)	イ	⑨	(4)	ク	⑨
(5)	低倍率			⑨						

② 次の文は、ルーペの使い方について述べたものである。①、②のそれぞれのア、イから正しいものを選び、記号で答えなさい。

ルーペは①{ア. 目に近づけて イ. 目から離して} 持ち、②{ア. 頭 イ. 観察したいもの}を前後に動かして観察する。

① **ア** ② **イ**