

確認テスト

69

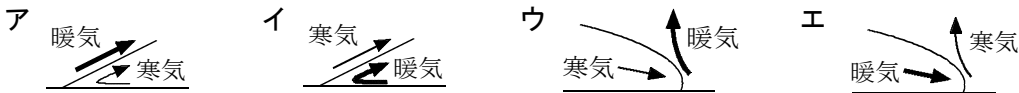
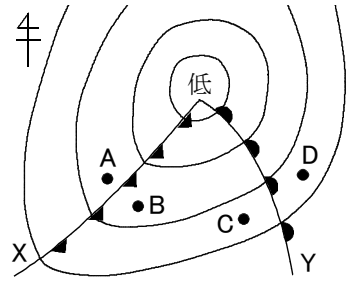
名前

解答

得点

① 右の低気圧について、次の問いに答えなさい。

- (1) X, Yの前線の名前をそれぞれ答えなさい。
- (2) X, Yの前線付近に見られる雲の名前をそれぞれ答えなさい。
- (3) X, Yの前線付近の、地面に垂直な断面での大気の様子はどうなっているか。次のア～エからそれぞれ選び、記号で答えなさい。



(4) 次の①, ②は、A～Dのどこのようすを述べたものか。それぞれ記号で答えなさい。

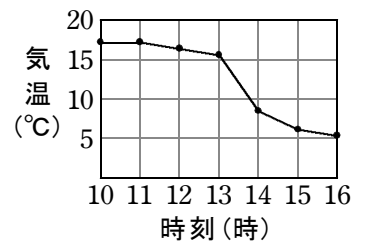
- ① 強いにわか雨が降っている。
- ② おだやかな雨が降っているが、やがて雨がやみ、気温が上がる。

(5) A, C, Dの各地の風向きを次のア～エからそれぞれ選び、記号で答えなさい。

ア. 南東 イ. 南西 ウ. 北東 エ. 北西

(1)	X	寒冷前線	⑦	Y	温暖前線	⑦
(2)	X	積乱雲	⑦	Y	乱層雲	⑦
(3)	X	ウ	⑧	Y	ア	⑧
(4)	①	A	⑧	②	D	⑧
(5)	A	エ	⑧	C	イ	⑧
				D	ア	⑧

② 右のグラフは、日本のある地点で気温の変化を観測した結果をまとめたものである。この付近を通過した前線の名前を答えなさい。また、その前線が通過した時刻を次のア～ウから選び、記号で答えなさい。



ア. 11時～12時 イ. 13時～14時 ウ. 15時～16時

前線の名前	寒冷前線	⑧	時刻	イ	⑧
-------	------	---	----	---	---