

確認テスト

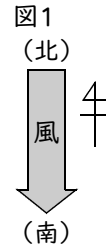
65

名前

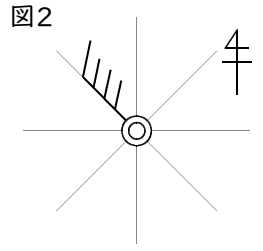
得点

1 次の問いに答えなさい。

(1) 図1のように、風が北から南へ向かって吹いているときの風向を答えなさい。



(2) 図2の天気図記号から、風向、風力、天気を答えなさい。



(1)				⑬
(2)	風向	風力	天気	⑭

2 ある日の昼休み、学校で気象観測を行った。見通しのよい場所で空を見上げると、雨は降っておらず、雲量は5であった。また、風向風速計を使って風向と風力を測定したところ、北東の風、風力3であった。これについて、次の問いに答えなさい。

(1) 下線部より、このときの天気を答えなさい。

(2) このときの天気図記号をかきなさい。

(1)				⑮
(2)				⑯

確認テスト

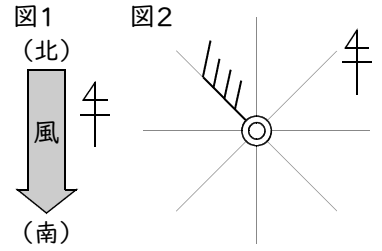
65

名前	解答	得点
----	----	----

1 次の問いに答えなさい。

(1) 図1のように、風が北から南へ向かって吹いているときの風向を答えなさい。

(2) 図2の天気図記号から、風向、風力、天気を答えなさい。



(1)	北	⑬		
(2)	風向 北西	風力 4	天気 くもり	⑭

2 ある日の昼休み、学校で気象観測を行った。見通しのよい場所で空を見上げると、雨は降っておらず、雲量は5であった。また、風向風速計を使って風向と風力を測定したところ、北東の風、風力3であった。これについて、次の問いに答えなさい。

(1) 下線部より、このときの天気を答えなさい。

(2) このときの天気図記号をかきなさい。

(1)	晴れ	⑮
(2)		⑯