

確認テスト

74

名前

得点

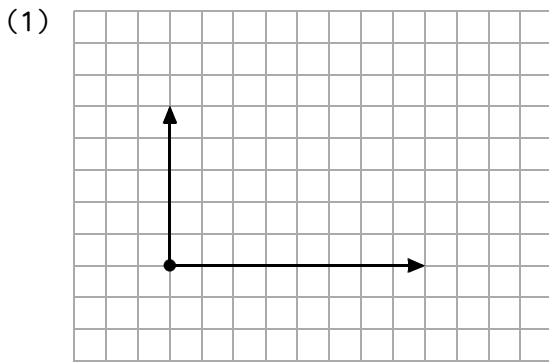
① 同じ作用点にはたらく次の(1)、(2)の2力の合力の、向きと大きさをそれぞれ答えなさい。

(1) 右向きに7.0Nの力と、右向きに4.0Nの力。

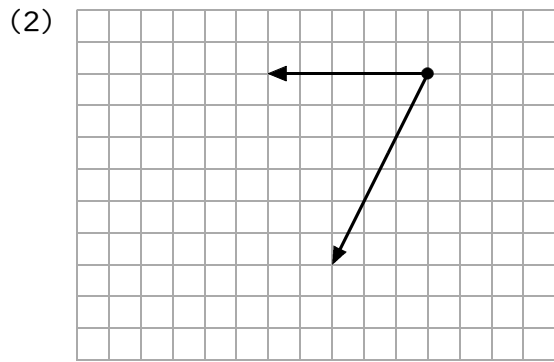
(2) 右向きに6.0Nの力と、左向きに9.0Nの力。

(1)	向きに	Nの力	(2)	向きに	Nの力
		①			①

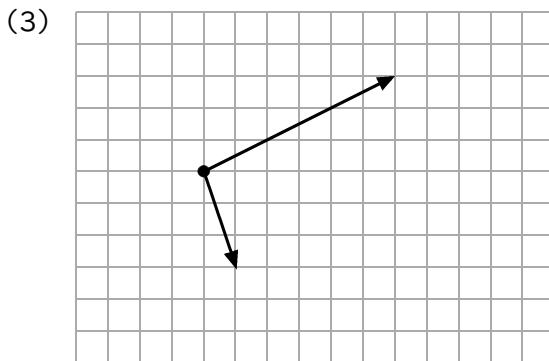
② 次のそれぞれの図の2力の合力を、作図して答えなさい。



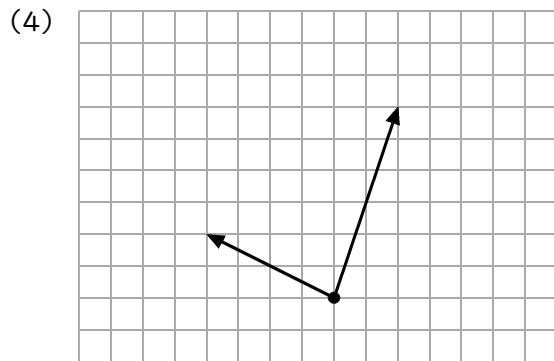
⑬



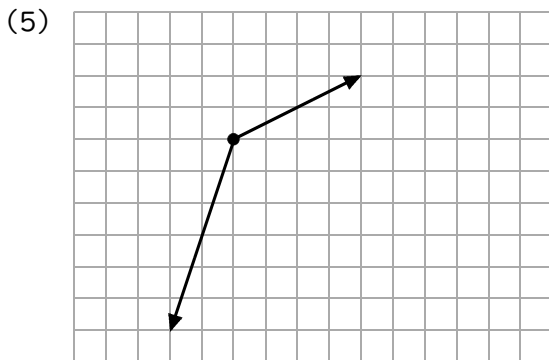
⑬



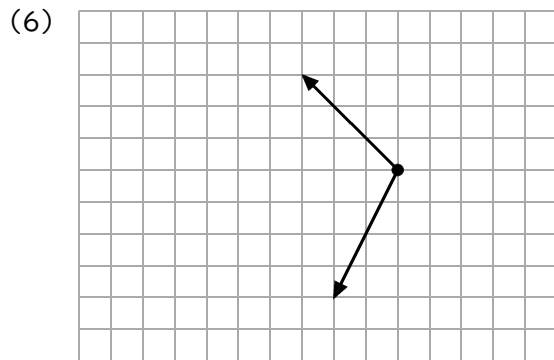
⑬



⑬



⑬



⑬

確認テスト

74

名前

解答

得点

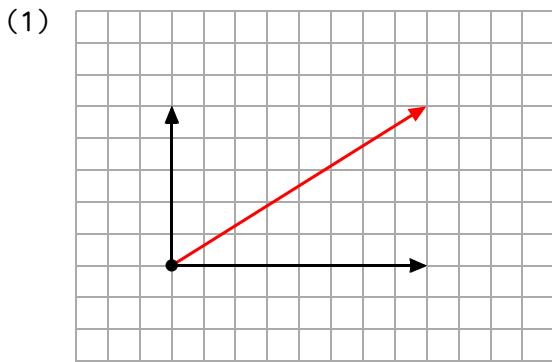
① 同じ作用点にはたらく次の(1)、(2)の2力の合力の、向きと大きさをそれぞれ答えなさい。

(1) 右向きに7.0Nの力と、右向きに4.0Nの力。

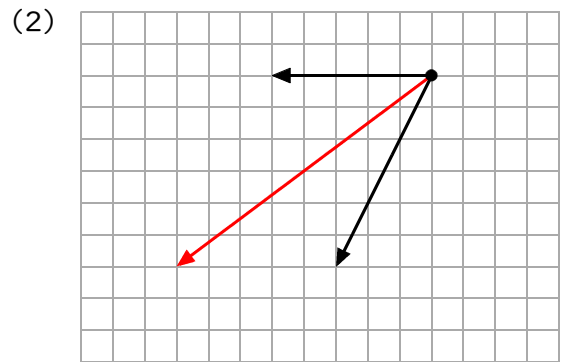
(2) 右向きに6.0Nの力と、左向きに9.0Nの力。

(1)	右 向きに 11.0 Nの力	(2)	左 向きに 3.0 Nの力
-----	----------------	-----	---------------

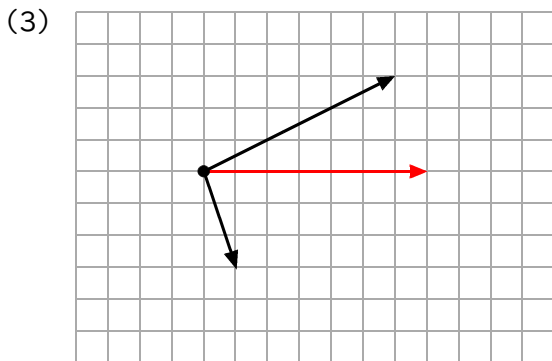
② 次のそれぞれの図の2力の合力を、作図して答えなさい。



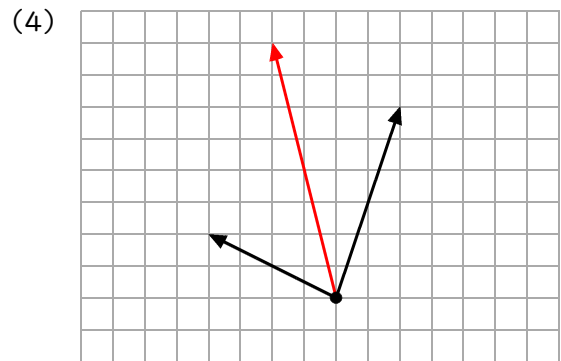
⑬



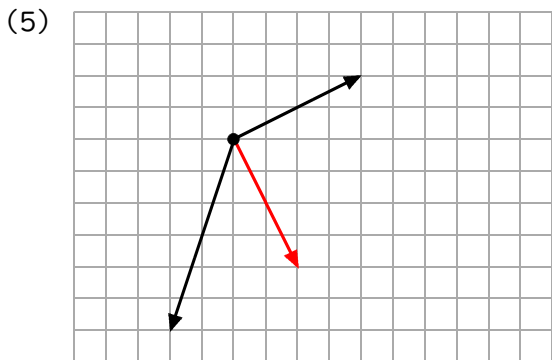
⑬



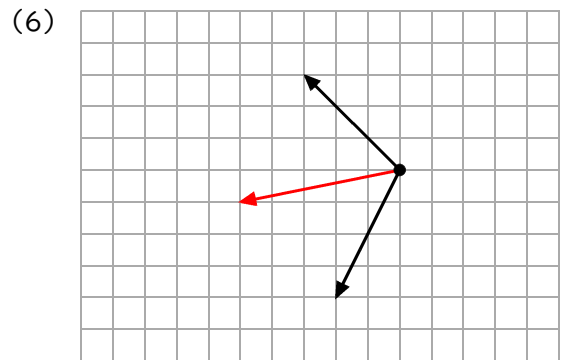
⑬



⑬



⑬



⑬